

ПРИГЛАСИТЕЛЬНЫЙ ШКОЛЬНЫЙ ЭТАП  
ВСЕРОССИЙСКОЙ ОЛИМПИАДЫ  
ШКОЛЬНИКОВ ИСТОРИЯ. 2023 г. 9 класс

**Критерии оценивания выполнения олимпиадных заданий**

<i><b>В заданиях 1–3 выберите один верный ответ.</b></i>
--

**1.** Прочитайте отрывок из исторического источника и укажите, в каком году произошло описанное событие.

«Благоверный князь просил сопровождавшего его священника Николая совершить молебен перед иконой Божией Матери и долго со слезами молился перед чтимым образом. В это время ему явилась Пресвятая Богородица со свитком в правой руке и повелела благочестивому князю образ Её, принесённый из Вышгорода, поставить во Владимире, а на месте Её чудесного явления построить храм и святую обитель».

- 1) 1113
- 2) 1132
- 3) 1157
- 4) 1299

**Ответ: 3.**

**Максимум за задание – 1 балл.**

**2.** Ниже приведён список литературных произведений византийских авторов. Укажите, в каком из них неоднократно упоминаются росы и славны, особенности их быта и подготовка к военным походам на Константинополь.

- 1) Книга Эпарха
- 2) «Трактат об управлении империей» Константина Багрянородного
- 3) «Алексиада»
- 4) «Война кошек и мышей» Проклоса

**Ответ: 2.**

**Максимум за задание – 1 балл.**

3. Какая московская крепость располагалась на месте современного Бульварного кольца?

- 1) Кремль
- 2) Белый город
- 3) Китай-город
- 4) Земляной город

**Ответ: 2.**

**Максимум за задание – 1 балл.**

***В заданиях 4–6 выберите несколько верных ответов из предложенных.***

4. Ниже приведён список исторических терминов (названий). Укажите те из них, которые обозначают элементы средневекового русского вооружения.

- 1) бердыш
- 2) лучина
- 3) паникадило
- 4) сулица
- 5) финифть
- 6) булава

**Ответ: 146.**

**+1 балл за каждое верное положение.**

**-1 балл – за каждое неверное, но не ниже 0 баллов за задание.**

**Максимум за задание - 3 балла.**

5. Ниже приведён список известных исторических деятелей. Укажите тех из них, кто в XVIII веке получил почётную приставку к фамилии.

- 1) П.П. Семёнов-Тян-Шанский
- 2) М.Н. Муравьёв-Виленский
- 3) В.М. Долгоруков-Крымский
- 4) Н.Н. Муравьёв-Карсский
- 5) П.А. Румянцев-Задунайский
- 6) А.В. Суворов-Рымникский

**Ответ: 356.**

**+1 балл за каждое верное положение.**

**-1 балл – за каждое неверное, но не ниже 0 баллов за задание.**

**Максимум за задание - 3 балла.**

**6-7.** По какому принципу образованы ряды? Выберите ответ из списка.

**6.** 1698, 1713, 1725, 1769, 1798.

**Варианты:**

- 1) годы заключения мирных договоров с Османской империей
- 2) годы проведения реформ административного деления России
- 3) годы учреждения российских высших наград (орденов)
- 4) годы рукоположения святейших Патриархов всея Руси

**Ответ: 3.**

**Максимум за задание – 1 балл.**

**7.** Г.М. Курин, В. Кожина, Д.В. Давыдов, А.Н. Сеславин.

**Варианты:**

- 1) герои битвы при Аустерлице 1805 года
- 2) участники героической обороны Севастополя
- 3) участники партизанской борьбы во время Отечественной войны 1812 года
- 4) выдающиеся поэты, современники Александра I

**Ответ: 3.**

**Максимум за задание – 1 балл.**

**8.** Установите соответствие между названиями литературных произведений и правителями, на годы правления которых приходятся основные события произведения.

**ЛИТЕРАТУРНЫЕ ПРОИЗВЕДЕНИЯ**

«Ревизор»  
«Кому на Руси жить хорошо»  
«Капитанская дочка»  
«Война и мир»  
«Князь Серебряный»  
«Полтава»

**ПРАВИТЕЛИ**

Александр II  
Екатерина II  
Иван IV  
Пётр I  
Елизавета Петровна  
Николай I  
Александр I

**Ответ:**

ЛИТЕРАТУРНЫЕ ПРОИЗВЕДЕНИЯ	ПРАВИТЕЛИ
«Ревизор»	Николай I
«Кому на Руси жить хорошо»	Александр II
«Капитанская дочка»	Екатерина II
«Война и мир»	Александр I
«Князь Серебряный»	Иван IV
«Полтава»	Пётр I

**За каждое верное соотнесение – 1 балл.**

**Максимум за задание – 6 баллов.**

**9-24.** Прочитайте текст. Определите пропущенные в тексте названия, слова, имена, даты, обозначенные порядковыми номерами. При необходимости при порядковых номерах даются пояснения о характере требуемой вставки.

*Внимание! Список ответов избыточен.*

После смерти в 1359 году московского князя **(1 – имя и прозвище правителя)**, сына **(2 – имя и прозвище)**, на московский престол взошёл князь **(3 – имя)**, которому было тогда только 9 лет. В первые годы его правления его опекуном был живший в Москве митрополит **(4 – имя)**, помогавший править и отстаивать свою власть молодому князю.

Надо сказать, что молодому князю очень повезло – в правление его деда на Руси на 40 лет воцарилась **(5 – аллегорическое название периода без войн и вторжений в Московское княжество)**, которая была прервана лишь в 1368 году вторжением армии правителя **(6 – название страны)** по имени **(7 – имя)**. Он совершил ещё 2 два похода на Москву, однако они были безуспешны, во многом и потому, что в правление московского князя в **(8)** году был выстроен вместо дубового Кремля новый – **(9 – определение, связанное с материалом постройки)**.

Однако наиболее серьёзные деяния ждали князя в 1370-е годы. Отказавшись в **(10)** году платить дань Орде, московский князь автоматически становился её противником. Вскоре крупная битва между Москвой и Ордой произошла на территории **(11 – название)** княжества в 1377 году на реке **(12 – название реки)**. И хотя войска московского князя были разбиты, спустя некоторое время в **(13)** году на реке **(14 – название реки)** была одержана первая серьёзная победа над ордынцами, реванш за прошлые поражения.

После поражения на реке **(14)** правитель Золотой Орды темник **(15 – имя)** начал собирать силы для полномасштабного наступления на Северо-Восточную Русь...

Список для пропусков №1,2,3,4,7,15	Список для пропусков № 5,6,9,11,12,14	Список для пропусков № 8,10,13.
Алексий	Белокаменный	1359
Батый	Вожа	1367

Пригласительный школьный этап Всероссийской олимпиады  
школьников. История. 2023 г. 9 класс

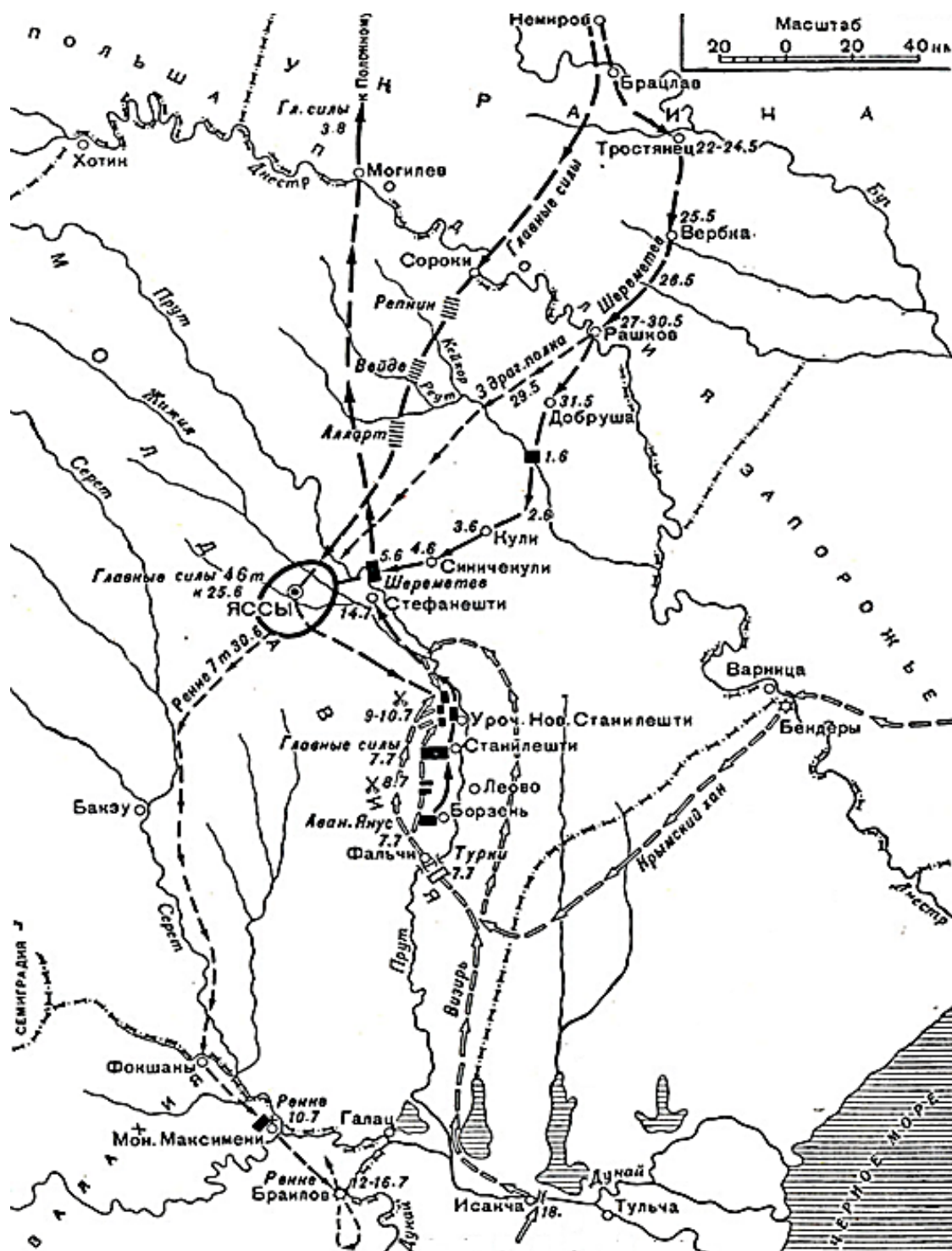
Витовт	Ворскла	1374
Даниил Александрович	Галицко-Волынское	1375
Даниил Галицкий	Земляной	1378
Дмитрий	Клязьма	1380
Иван Калита	Краснокаменный	1392
Иван Красный	Литва	
Мамай	Муромское	
Ольгерд	Польша	
Симеон Гордый	Пьяна	
	Суздальско-Нижегородское	
	Тверское	
	Тишина Великая	
	Угра	

**Ответ:**

Номер	Ответ
1	Иван Красный
2	Иван Калита
3	Дмитрий
4	Алексий
5	Тишина Великая
6	Литва
7	Ольгерд
8	1367
9	Белокаменный
10	1374
11	Суздальско-Нижегородское
12	Пьяна
13	1378
14	Вожа
15	Мамай

**За каждое верное соотнесение – 1 балл.  
Максимум за задание – 16 баллов.**

25-28. Внимательно рассмотрите карту и выполните задания, предложенные ниже.



25. Напишите **ОДНИМ СЛОВОМ** название похода русских войск, события которого обозначены на карте.

*Внимание! Ответы с орфографическими ошибками не засчитываются.*

**Ответ:** Прутский.

**Максимум за задание – 1 балл.**

**26.** Укажите год, когда он произошёл.

*Ответ запишите в виде четырехзначного числа БЕЗ букв, пробелов и знаков препинания.*

**Ответ:** 1711

**Максимум за задание – 1 балл.**

**27.** Укажите ИМЯ И ОТЧЕСТВО русского царя, находившегося с армией в этом походе.

*Внимание! Ответы с орфографическими ошибками не засчитываются.*

**Ответ:** Пётр Алексеевич / Пётр I Алексеевич

**Максимум за задание – 1 балл.**

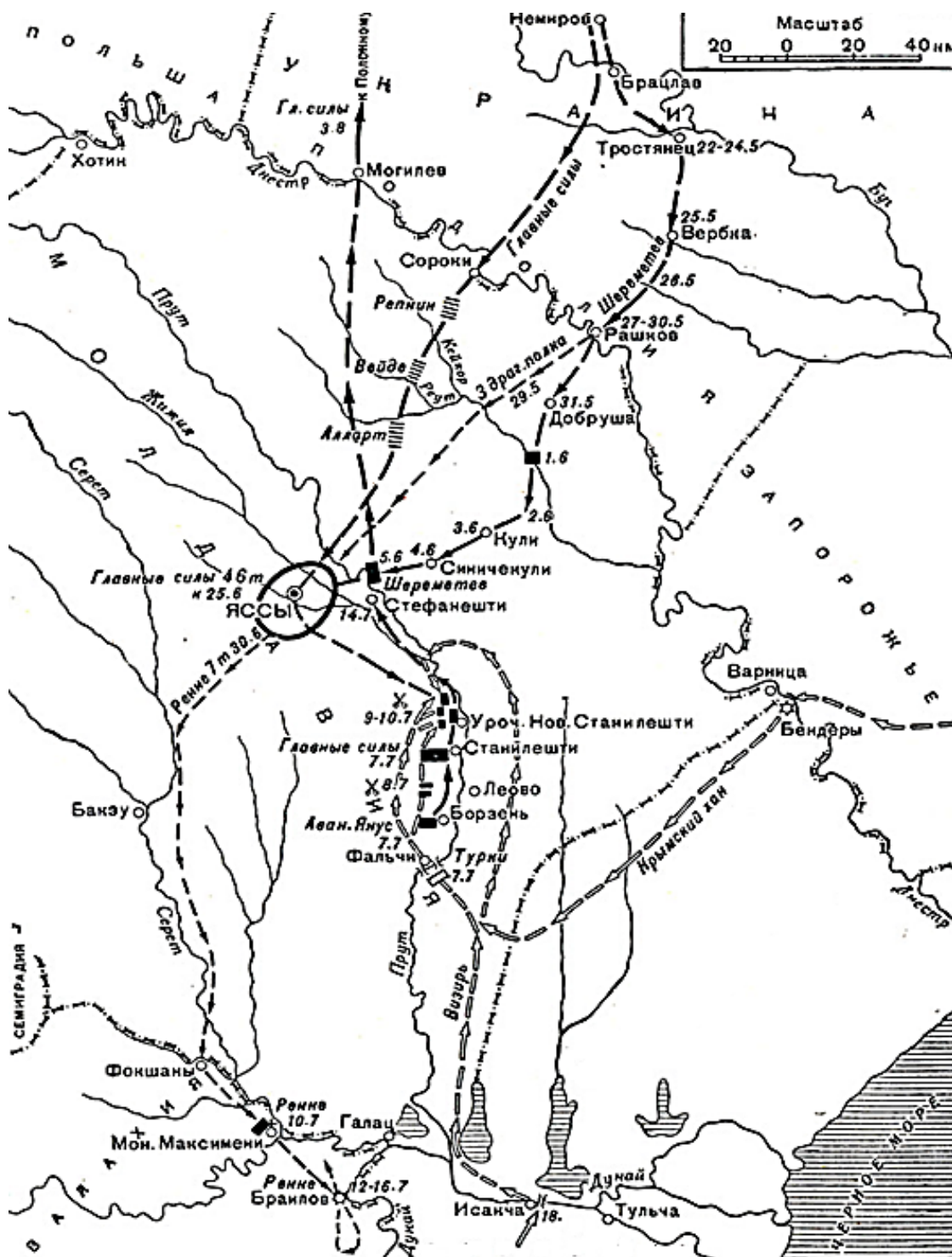
**28.** Назовите воинский чин полководца, движение войск под командованием которого через населённые пункты Тростянец – Добруша обозначено чёрными стрелками.

*Внимание! Ответы с орфографическими ошибками не засчитываются.*

**Ответ:** Генерал-фельдмаршал

**Максимум за задание – 1 балл.**

29-33. Верны ли следующие утверждения? Если утверждение является верным, выберите «да», а если оно является неверным, выберите «нет».



- А) Незадолго до этого похода русский правитель перенёс столицу в новый город.
- Б) Итогом похода, события которого обозначены на карте, стала победа русских войск.

- В) На карте обозначен город, в котором впоследствии был подписан мир с государством, войска которого противостояли русским войскам в походе, обозначенном на карте.
- Г) На территории государства, в ходе войны России с которым произошли события, отраженные на карте, в этот момент находился правитель другого государства, с которым Россия также была в состоянии войны.
- Д) По распространённой легенде, при заключении перемирия между враждующими сторонами значимую роль сыграли драгоценности будущей жены русского царя.

**Ответ:**

А	Б	В	Г	Д
нет	нет	да	да	да

**За каждый верный ответ – 1 балл. Максимум за 29-33 – 5 баллов.**

**34-40.** Перед вами картины на историческую тематику. Укажите годы, когда произошли эти события.

*Внимание! Запишите годы четырьмя цифрами **БЕЗ** букв, пробелов и знаков препинания.*



1



2



3




4



5



6



7

**Ответ:**

Номер иллюстрации	Год
1	1613
2	1682
3	1814
4	988
5	1380
6	1799
7	1825

**За каждый верный ответ – 1 балл. Максимум за 34-40 – 7 баллов.**

**41-42.** Перед вами фрагменты сообщений ответственного ведомства при Совете Народных Комиссаров СССР, которое в годы Великой Отечественной войны занималось составлением информационных сводок для радио, газет и журналов.

*Внимание! Ответы с орфографическими ошибками не засчитываются.*

**41.** Напишите название ведомства **ОДНИМ СЛОВОМ**.

**Ответ:** Совинформбюро.

**Максимум за задание – 2 балла.**

**42.** Установите соответствие приведённых фрагментов датам, в которые произошли описанные в них события.

**Ответ:**

Фрагмент	Дата
А	2 мая 1945 года
Б	5 августа 1943 года
В	13 апреля 1945 года
Г	29 июня 1941 года
Д	21 ноября 1942 года
Е	3 июля 1941 года
Ж	20 января 1944 года

**За каждое верное соотнесение – 1 балл.**

**Максимум за задание – 7 баллов.**

- А. Войска 1-го Белорусского фронта под командованием Маршала Советского Союза Жукова, при содействии войск 1-го Украинского фронта под командованием Маршала Советского Союза Конева, после упорных уличных боёв завершили разгром Берлинской группы немецких войск и сегодня... полностью овладели столицей Германии городом Берлин, центром немецкого империализма и очагом немецкой агрессии.

- Б. ...Наши войска после ожесточённых уличных боёв овладели городом и железнодорожным узлом Орёл. Северо-западнее, южнее и юго-западнее Орла наши войска за день боёв заняли свыше 30 населённых пунктов. Того же [дня] наши наступающие войска после упорных боёв овладели городом Белгород.
- В. ...В ходе боёв за подступы к Вене и за город Вену с 16 марта по... войска фронта разгромили одиннадцать танковых дивизий немцев, в том числе 6-ю танковую армию СС, взяли в плен более 130 000 солдат и офицеров противника, уничтожили и захватили 1 345 танков и самоходных орудий, 2 250 полевых орудий и много другого военного имущества.
- Г. ... В результате упорных и ожесточённых боёв за период в... дней немцы потеряли не менее 2 500 танков, около 1 500 самолётов, более 30 000 пленными. За тот же период мы потеряли: 850 самолётов, до 900 танков, до 15 000 пропавшими без вести и пленными. Такова картина действительного положения на фронте, которую мы с полным основанием противопоставляем хвастливым сообщениям германского радио. Итоги первых... дней войны позволяют сделать следующие выводы: молниеносная победа, на которую рассчитывало немецкое командование, провалилась...
- Д. На днях наши войска, расположенные на подступах Сталинграда, перешли в наступление против немецко-фашистских войск. Наступление началось в двух направлениях: с северо-запада и с юга от Сталинграда... Захвачено за три дня боёв 13 000 пленных и 360 орудий.
- Е. Сегодня в шесть часов тридцать минут по радио выступил Председатель Государственного Комитета Обороны И. В. Сталин, призвавший народы Советского Союза, нашу доблестную Красную Армию и Военно-Морской Флот, наших лётчиков-соколов к самоотверженной отечественной освободительной войне против фашистских поработителей, к полному разгрому врага, к победе. Призыв вождя народов товарища Сталина вызвал величайший подъём среди рабочих, крестьян, интеллигенции, невиданное воодушевление и волю к победе над немецко-фашистскими ордами над лютыми, коварными и жестокими врагами нашей Родины и всего передового человечества. В городах, на фабриках, железных дорогах, в советских учреждениях с энтузиазмом подхвачен призыв вождя.
- Ж. Войска Волховского фронта в результате умелого обходного манёвра... штурмом овладели городом Новгород. Продолжая развивать наступление, войска фронта... вели успешные бои по ликвидации окружённых частей противника в лесах западнее Новгорода.

**Итого 58 баллов.**